

Plan de travail de diluns 11 a divendres 22 d'octòbre CM2



Prénom :

12
11
10
9
8
7
6
5
4
3
2
1

L11 M12 J14 V15 L18 M19 J21 V22

Numération Compétences		<i>S'entraîner</i> 	<i>Approfondir</i>
Connaître les nombres, savoir les écrire et les nommer.		N1_2	N1_3
Comparer/ranger/encadrer/utiliser les signes < et >		N2_2	N2_3

Problèmes Compétences	<i>Commencer</i> 	<i>S'entraîner</i> 	
Repérer et prélever les données utiles/retirer des données inutiles.	C18_1	C18_2	

Géométrie Compétences	<i>Commencer</i> 	<i>S'entraîner</i> 	<i>Approfondir</i>
Tracer des droites parallèles et perpendiculaires avec l'équerre et la règle	G12_1	G12_2	G12_3

Technique opératoire Compétences			<i>Approfondir</i>
Addition et soustraction de deux entiers			C7_3

Mesure Compétences	<i>Commencer</i> 	<i>S'entraîner</i> 	
Lire l'heure	M3_1	M3_2	

Ce que je pense de mon travail :

L'avis du maître :

Numeracion

N1_2

Escriu en letras (en francés) los nombres següents. Utiliza una linha per nombre :
131 957 / 504 782 / 43 093 / 2 526 / 357 040

N1_3

Al nombre 248 709, ajusti una centena de mila, una desena de mila e tres desenas.
a. Quin nombre obteni ?
b. Quin nombre ai ajustat ?

N2_2

Ordena las susfàcias d'aquestes païses dins l'òrdre creissent.

Païses	Susfàcia en km ²
Alemanha	357 040
Dinamarca	43 093
Espanha	504 782
França	551 602
Reialme Unit	244 734
Grècia	131 957
Luxemborg	2 526

N2_3

Ordena los nombres següents dins l'òrdre descreissent :
3195 / 1879 / 6005 / 679 / 3604







Problèmas

C18_1:

La familia Belay aprèsta sas vacanças en Tòrena. Lo sénher Belay e sa dròlla Anna vòlon far de planca de vela, la dòna Belay se vòl perfeccionar en tennis e lor dròlle Gilles vòl anar a la piscina.

- Dins quinas comunas pòràn practicar totas aquelas activitats esportivas ?
- La dòna Belay ditz : « dins aquelas comunas, causirem la qu'es mai prèp de

Ligueil, ont demòran vòstre pepin e vòstra menina. ». De quina comuna es a parlar ?

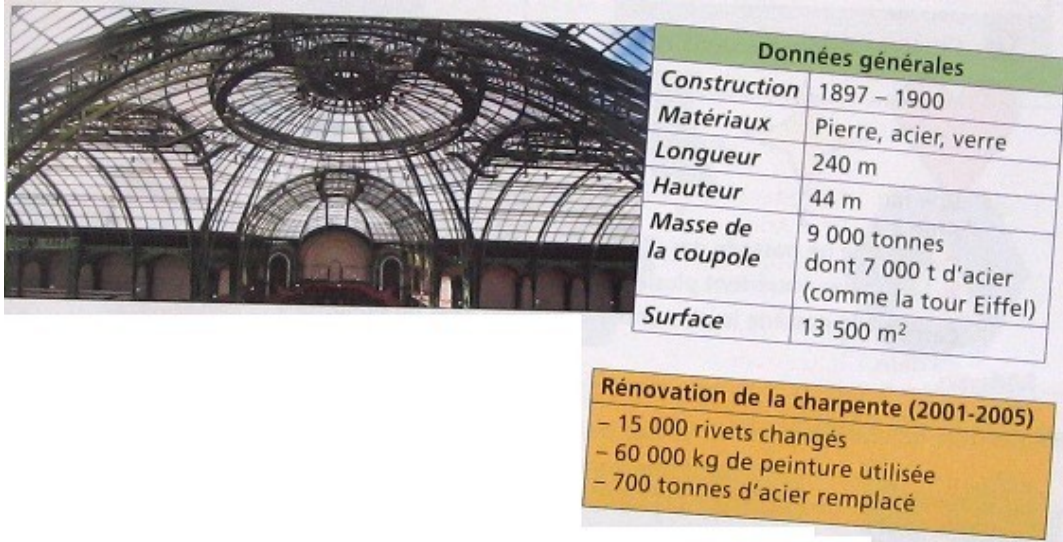
Communes						
Bléré	●		●	●		
Descartes	●		●	●		
Le-Grand-Pressigny	●	●	●			●
Ligueil	●		●			●
Loches	●	●	●	●	●	●
Preuilly	●		●			
St ^e -Maure-de-Touraine	●	●	●	●		



C18_2:

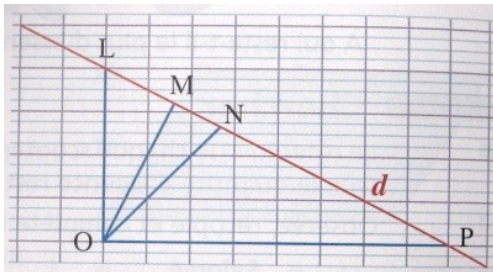
A Paris, lo Grand Palais se tròba tot prèp dels Champs Élysées. Albèrga regularament de salons e d'expausicions temporàrias. Sa copòla en veire e en acièr.

- Quant de temps durèt la construccion del Grand Palais ?
- Que es la massa de veire de la copòla ?
- La longor del bastiment es 2 còps, 5 còps o 10 còps mas bèla que la nautor ?
- Per pintrar lo fustatge, utilizèron de pòts de pintura de 30 kg.
 - quant pesan 1000 pòts ?
 - quantes de pòts utilizèron ?



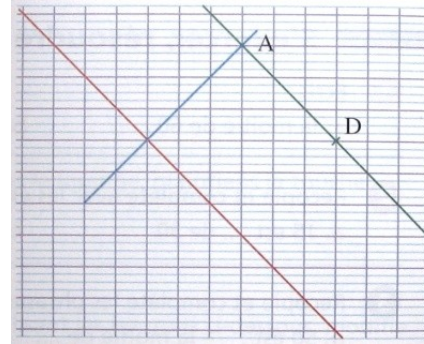
Geometria

G12_1: Reproduís la figura.



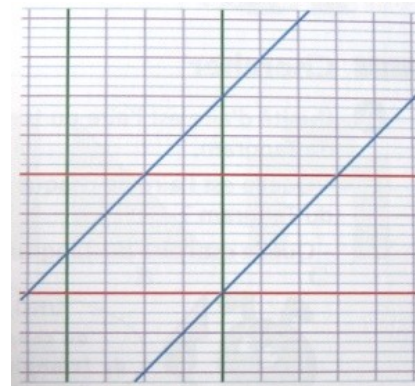
- Compara la longor dels segments blaus ([OL], [OM] e [ON]) que religan lo punt O a la drecha (d). Quin es lo mai cort ?
- Es possible de traçar un segment encara mai cort ?
- Quin segment es perpendicular a la drecha (d) ? Mesura la distància del punt O a la drecha (d).

G12_2: Reproduís la figura.



- Las doas drechas son parallèlas ? Cossí lo pòdes verificar ?
- Mesura la distància dels punts A e D a l'autra drecha.
- De que pòdes dire sus l'escartament entre dos drechas parallèlas ?

G12_3: Reproduís la figura.



- Mesura, en mm, l'escartament entre las doas drechas parallèlas verticalas.
- Mesura, en mm, l'escartament entre las doas drechas parallèlas horizontalas.
- Per conèisser l'escartament entre las doas drechas parallèlas oblicas, de que cal traçar primèr ?
Fai la construccion puèi mesura aquel escartament.

Tecnica operatòria

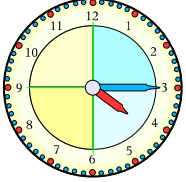
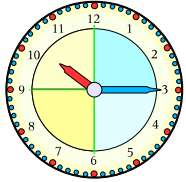
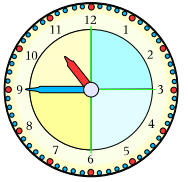
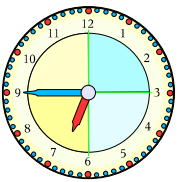
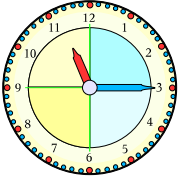
C7_3

Pausa, calcula e verifica las operacions seguentas : 4903 - 2195 / 1450 - 9342 / 12023 - 999

Mesura

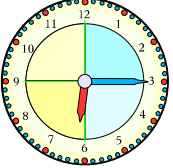
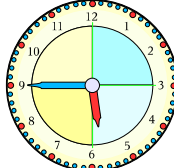
M3_1

Son 16 h 15 a Paris. Escriptu l'ora que es al meteis moment dins d'autres vilas del mond.

Paris	New-York	Terre-Neuve	Bagdad	Pékin
				
16 h 15				

M3_2

Obsèrva aqueles dos quadres e legís l'ora. Cossí passam de l'ora del matin a la del vèspre ?

	Matin : 6 h 15 Vèspre : 18 h 15	Matin : 5 h 45 Vèspre : 17 h 45	
--	------------------------------------	------------------------------------	--