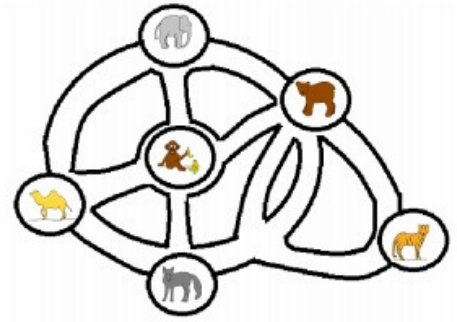


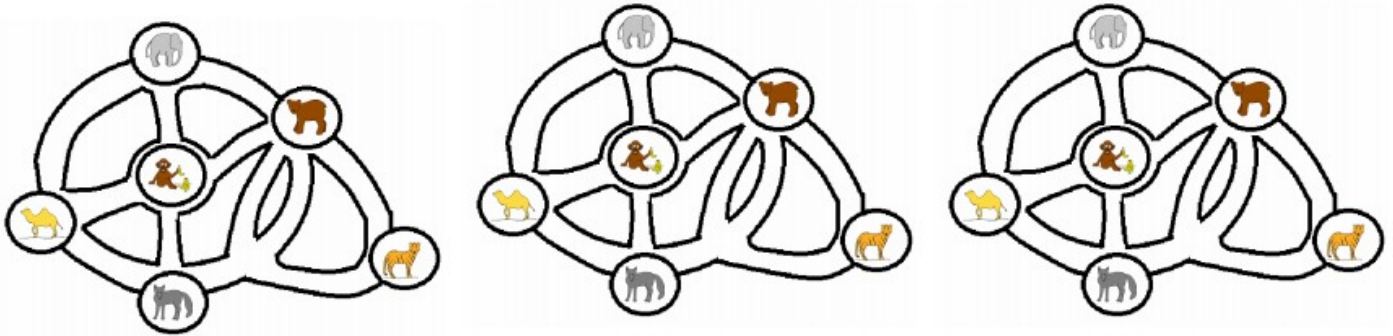
# Setmana de las matematicas - dijòus

## Nivèl 1 : lo zoo

Los escolans d'una classa decidisson d'anar al zoo. Se retròban davant la gàbia dels elefants. Vòlon vertadièrament anar veire los lops mas sonque aprèp aver vist los dromadaris e benlèu d'autres animals. Atencion : vòlon pas passar dos còps davant la meteissa gàbia.

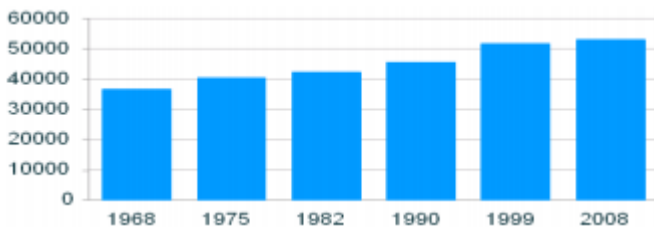


Tròba 4 camins que los enfants pòdon seguir per anar de la gàbia dels elefants a la dels lops en passant davant la dels dromadaris.



## Nivèl 2 : la bandièra dels Estats-Units

De mirgas roseguèron un tròç de la bandièra dels Estats-Units. Quantas estelas mancan ?



## Nivèl 3 : la poblacion de Vannes

En legissant aqueste grafic, tròba la poblacion de Vannes (a 1000 estatjants prèp)

- \* en 1 975 : .....
- \* en 2 008 : .....

## Nivèl 4 : França

Vaquí un esquèma plan simplificat d'una carta de França.

Escala : lo costat d'un carrèu mesura 100 km.

Calcula la susfàcia aproximativa de França.

Ajuda : susfàcia d'un carrèu = 100 km x 100 km = 10.000 km<sup>2</sup>

