







Rampèl

En cas de doblte suls sens de las chifras que compausan un nombre, es util de los escrire dins un tablèu coma lo çai-jos :

mila					
C	D	U	Centenas	Desenas	Unitats
milièrs 					
× 100 000	× 10 000	× 1 000	× 100	× 10	× 1

Exercicis

1. Completa los tablèus següents.

vingt-trois mille quatre-vingts					
classa dels milièrs			classa de las unitats		
C	D	U	C	D	U

cinquante mille sept					
classa dels milièrs			classa de las unitats		
C	D	U	C	D	U

onze mille onze					
C	D	U	C	D	U

quatre-vingt-quatre mille six cent seize					
C	D	U	C	D	U

quatre-vingt-quatorze mille soixante-douze					
classa dels milièrs			classa de las unitats		
C	D	U	C	D	U

quarante et un mille quatre cent quatorze					
classa dels milièrs			classa de las unitats		
C	D	U	C	D	U

quatre-vingt mille huit cent huit					
C	D	U	C	D	U

trente-quatre mille trois cent cinquante-trois					
C	D	U	C	D	U

2. Escriu en letras los nombres següents.

74 602	
73 703	
90 909	
99 090	

3. Descompausa los nombres següents coma dins l'exemple.

Exemple : $68\ 307 = 60\ 000 + 8\ 000 + 300 + 7$

27 814 =

30 841 =

98 789 =

74 520 =

80 070 =

4. Completa aquestas sèrias de nombres.

78 997	78 998	78 999				
					70 000	70 001
		74 001	74 002			

5. Contunha aquestas sèrias segon la meteissa logica.

♦ 27 897 → 27 898 → 27 899 → → → →

♦ 84 504 → 84 503 → 84 502 → → → →

♦ 45 800 → 45 850 → 45 900 → → → →

♦ 70 300 → 70 200 → 70 100 → → → →