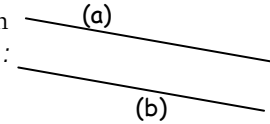


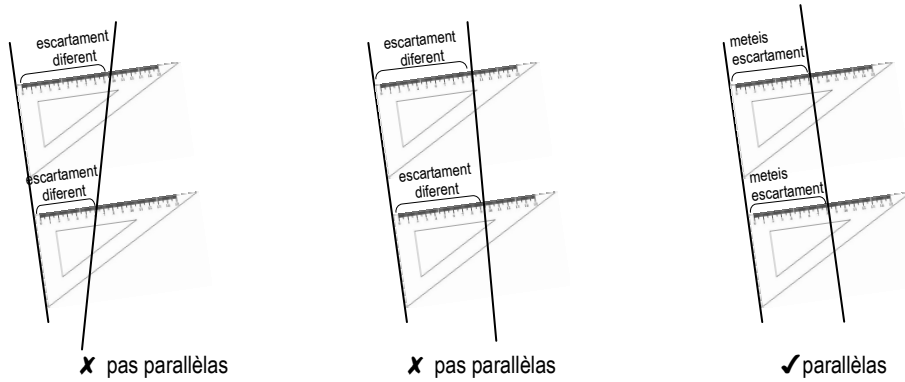
Geometria *Las dretas paral·leles*

Definicions

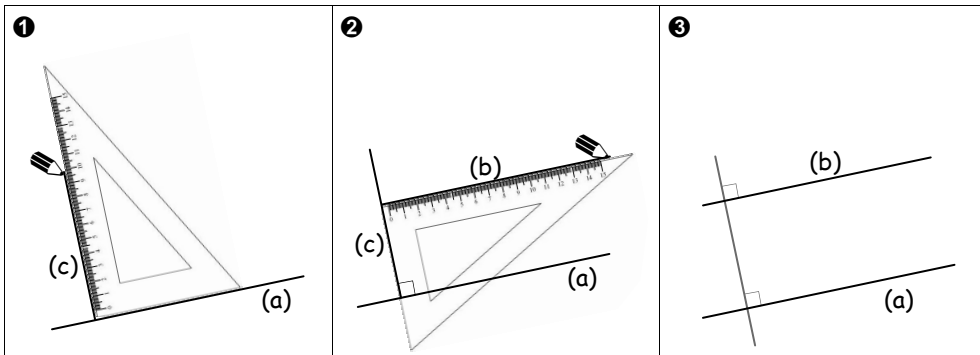
◆ Doas dretas **paral·leles** son doas dretas que se crosaràn pas jamai : son **orientadas** dins la meteissa direccion. *Exemple : las doas dretas çai-contra, (a) et (b) son paral·leles. Escrivèm (a) // (b).*



◆ Per verificar que doas dretas son paral·leles, sufís de mesurar lor escartament en dos punts, amb l'ajuda d'un escaire.

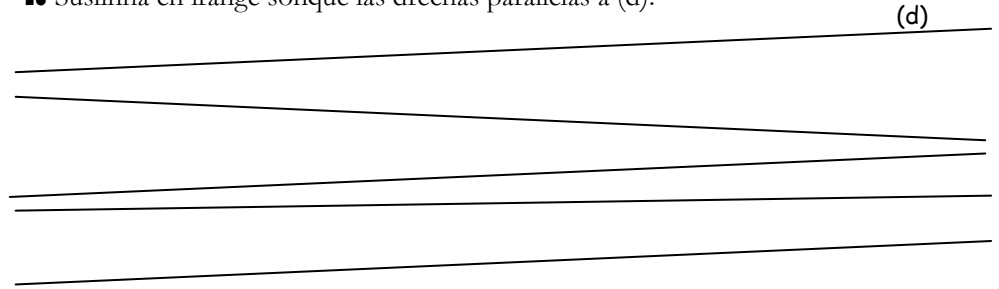


◆ Per traçar la drecha (b) paral·lela a la drecha (a), traçam ❶ una perpendiculara (c) a (a). Traçam puèi ❷ una perpendiculara (b) a (c). (a) e (b) son perpendicularas a la meteissa drecha (c) ❸ : son doncas totas doas paral·leles entre elas.

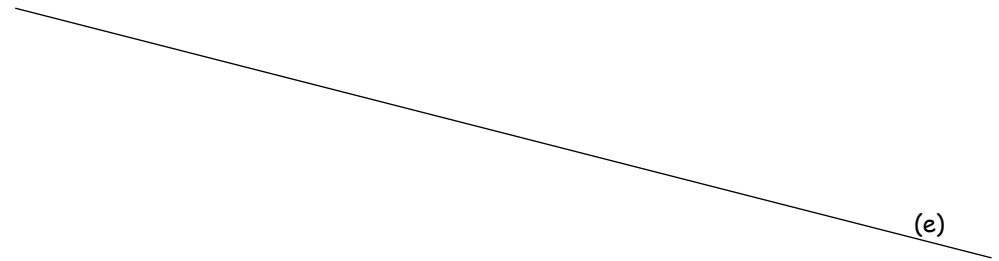


Exercicis

1. Suslinha en irange sonque las dretas paral·leles a (d).



2. Traça una drecha paral·lela a la drecha (e).



3. Traça (f) que passa per F e (g) que passa per G per que (f) // (g) // (h).

