

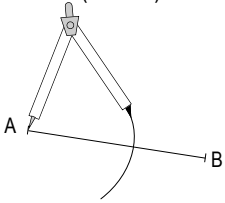


S'en cal sovenir

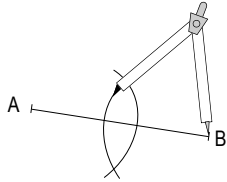
Le mièg d'un segment es lo punt d'aquel segment situat a **egala distància** de sas extremitats.

Tecnica

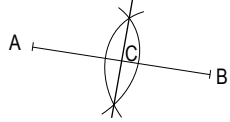
Causis un escartament de compàs superior a la mitat del segment. Traça un arc de cercle que lo centre es una de las extremitats (aici : A).



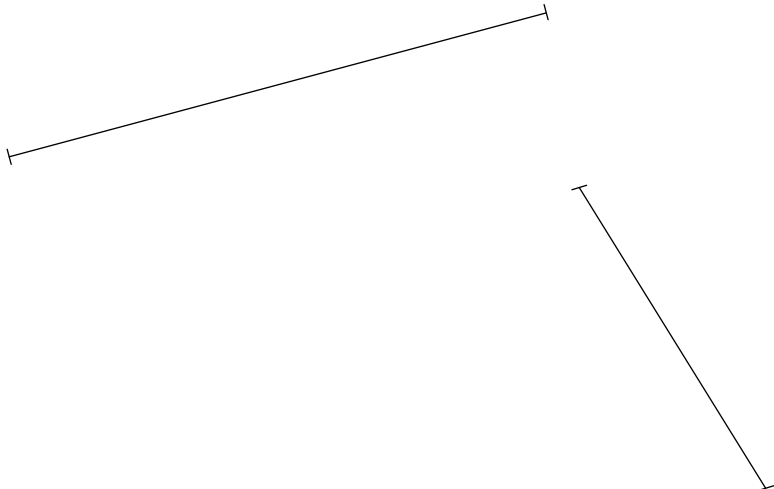
En conservant lo meteis escartament, traça un arc de cercle a partir de l'autra extremitat del segment : B.



Religa las interseccions dels dos arcs de cercle entre elas. Copan lo segment [AB] en son mièg C.



1. Traça lo mièg dels segments següents.



2. Traça çai-jos un segment [DE] de 5 cm. Traça puèi son mièg e nomena-lo F.

3. Traça lo mièg de cadun dels costats d'aqueste carrat. Nomena aquestes quatre mièges B, D, F e H de tal biais que obtendràs una seguida alfabetica. Traça puèi los segments [BD], [DF], [FH] e [HB]. Qué observas ?

.....

