

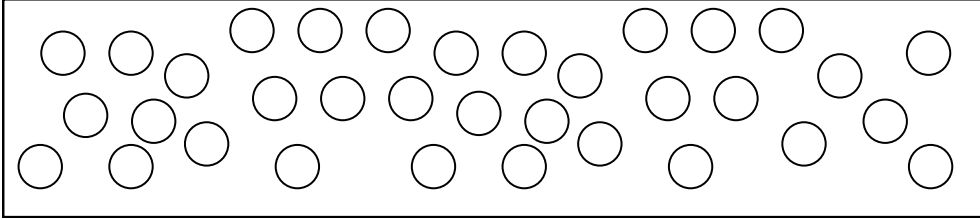
Rampèl

➤ Lo **doble** d'un nombre es aquel nombre multiplicat per 2. **Exemples** : lo doble de 6 es 12. – 30 es le doble de 15.

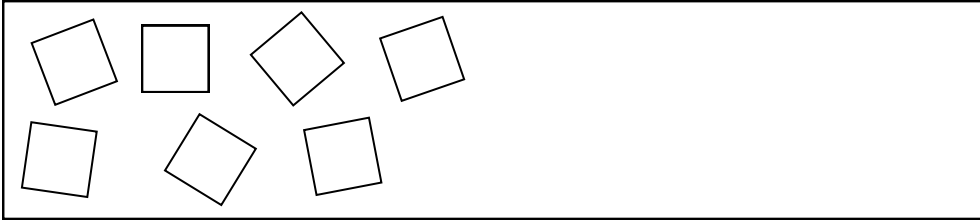
➤ La **mitat** d'un nombre (o lo mièg) es aquel nombre partejat en doas partidas egalas. **Exemples** : la mitat de 6 es 3. – 14 es la mitat de 28.

Activitats

1. La mitat d'aquestes cercles es verda. L'autra mitat es irange. Colora-los.



2. Dessenha los carrats que mancan per n'i aja lo doble.



3. Completa aquestas frasas.

- | | |
|----------------------------|----------------------------|
| ★ Lo doble de 13 es | ★ Lo doble de 25 es |
| ★ La mitat de 22 es | ★ La mitat de 18 es |
| ★ 40 es la mitat de | ★ Lo doble de 200 es |
| ★ La mitat de 60 es | ★ La mitat de 2 es |
| ★ 100 es le doble de | ★ 102 es le doble de |
| ★ 500 es la mitat de | ★ La mitat de 300 es |

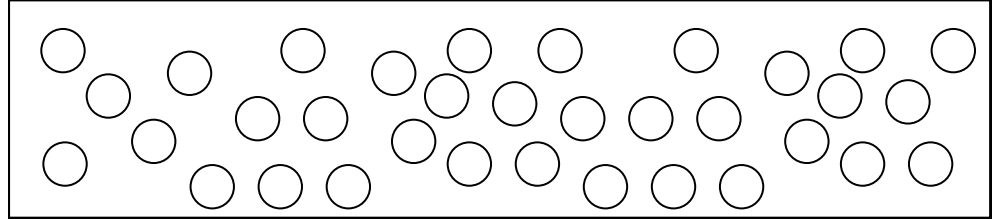
Rampèl

➤ Lo **doble** d'un nombre es aquel nombre multiplicat per 2. **Exemples** : lo doble de 6 es 12. – 30 es le doble de 15.

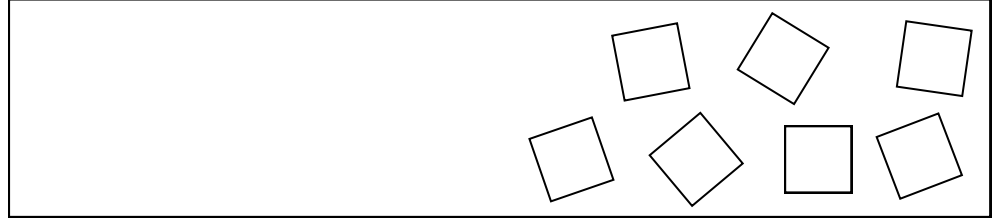
➤ La **mitat** d'un nombre (o lo mièg) es aquel nombre partejat en doas partidas egalas. **Exemples** : la mitat de 6 es 3. – 14 es la mitat de 28.

Activitats

1. La mitat d'aquestes cercles es verda. L'autra mitat es irange. Colora-los.



2. Dessenha los carrats que mancan per n'i aja lo doble.



3. Completa aquestas frasas.

- | | |
|----------------------------|----------------------------|
| ★ Lo doble de 25 es | ★ La mitat de 13 es |
| ★ La mitat de 18 es | ★ La mitat de 22 es |
| ★ Lo doble de 200 es | ★ 40 es la mitat de |
| ★ La mitat de 2 es | ★ La mitat de 60 es |
| ★ 102 es le doble de | ★ 100 es le doble de |
| ★ La mitat de 300 es | ★ 500 es la mitat de |