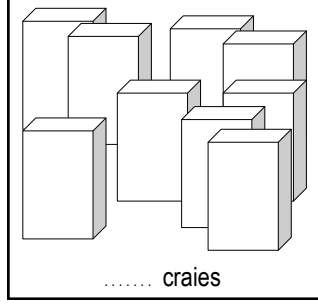
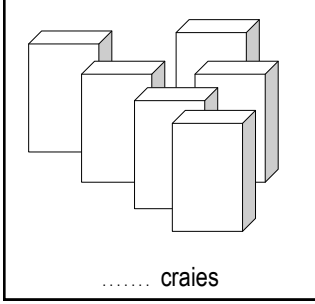
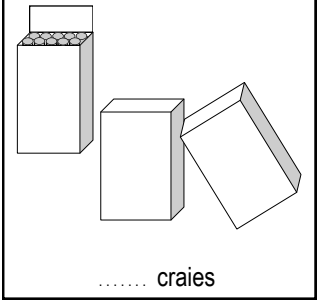




Activitats

1. Una pichona brústia conten 10 gredas. Indica lo nombre total de gredas de cada enseble.



2. Colora de la meteissa color los parelhs de multiples que la soma es egala a 100.



3. Completa lo tablèu puèi corregís-te en verd amb l'ajuda d'una calculadoira.

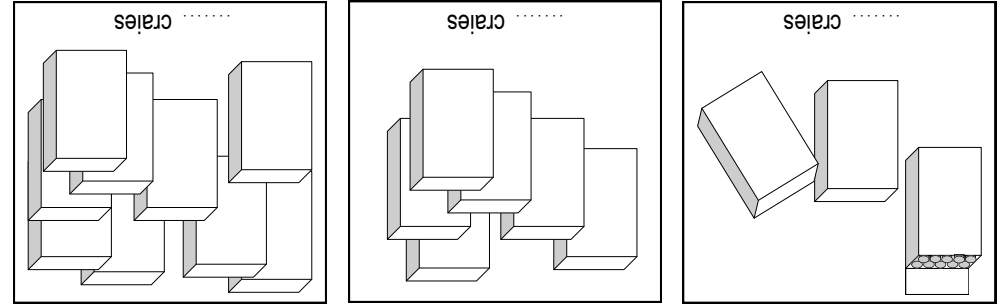
$10 + 10 =$	$20 + 80 =$	$90 + 50 =$	$20 + 70 =$	$40 + 70 =$
$20 + 20 =$	$70 + 70 =$	$20 + 30 =$	$50 + 90 =$	$10 + 60 =$
$40 + 40 =$	$10 + 20 =$	$90 + 90 =$	$30 + 30 =$	$70 + 90 =$
$30 + 40 =$	$30 + 20 =$	$40 + 20 =$	$10 + 40 =$	$80 + 90 =$
$10 + 30 =$	$80 + 80 =$	$20 + 60 =$	$70 + 80 =$	$20 + 50 =$
$50 + 50 =$	$70 + 10 =$	$40 + 80 =$	$30 + 60 =$	$20 + 90 =$

$= 90 + 02$	$= 60 + 30$	$= 08 + 40$	$= 70 + 10$	$= 50 + 05$
$= 50 + 02$	$= 80 + 70$	$= 60 + 20$	$= 80 + 80$	$= 10 + 30$
$= 80 + 08$	$= 10 + 40$	$= 40 + 20$	$= 30 + 20$	$= 30 + 40$
$= 90 + 70$	$= 30 + 30$	$= 90 + 90$	$= 10 + 20$	$= 40 + 40$
$= 10 + 60$	$= 50 + 90$	$= 20 + 30$	$= 70 + 70$	$= 20 + 20$
$= 40 + 70$	$= 20 + 70$	$= 90 + 50$	$= 20 + 80$	$= 10 + 10$

3. Completa lo tablèu puèi corregís-te en verd amb l'ajuda d'una calculadoira.



2. Colora de la meteissa color los parelhs de multiples que la soma es egala a 100.



1. Una pichona brústia conten 10 gredas. Indica lo nombre total de gredas de cada enseble.

Activitats

