




# PROBLÈMAS CM2 (1)

1	2	3	4	5	6	7	8	9	10
11	12	13	14	15	16	17	18	19	20
21	22	23	24	25	26	27	28	29	30

## Cossí resòlvre un problèma ?

1/ Primièr, legissi la question (**en gras**).


Legissi lo tèxte del problèma. Lo tèxte, es coma una istòria.



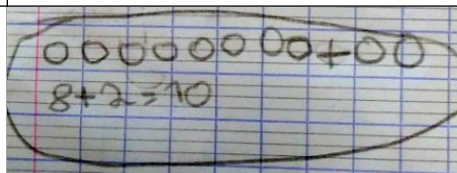
2/ Me conti l'istòria e ensagi de comprene çò que se passa. Me pòdi ajudar del material de la **brústia de problèmas**.



3/ Quand ai plan comprés çò que se passa, pòdi far un dessenh, escriure... per trobar la resposta a la question.



4/ Pòdi ara escriure l'operacion que correspond a mon dessenh puèi respondre a la question en fasant una frasa.



Verifiqui que ma resulta es possible.



## PROBLÈMAS CM2 (1)

1

Le tren Le Havre-Paris es partit de Le Havre amb 1 474 personas. 119 personas son montadas a l'estacion de Rouen.

**Quantas personas compta lo tren en arribant a París ?**



## PROBLÈMAS CM2 (1)

2

Mamà a crompat 3 paquets de 36 bonbons d'Halloween. Aprèp lo passatge dels enfants lo ser d'Halloween, aviá pas que 15 bonbons.

**Quantes bonbons distribuiguèt ?**



## PROBLÈMAS CM2 (1)

3

Paul a ajustat 20 euros dins sa denieiròla, gràcias al present de sa menina. Volda doncas la denieiròla e compta qu'a al total 174,50 euros. **Quant d'argent i aviá dins sa denieiròla abans lo present de sa menina ?**



## PROBLÈMAS CM2 (1)

4

Dins son verdièr, lo sénher Dupond a amassat 73 prunas, 214 pomas e 165 peras.

**Quantas fruchas a al total ?**



## PROBLÈMAS CM2 (1)

5

L'ortalièr sap qu'i an 9 rengadas de 18 arbres dins lo parc de la vila. Aqueles arbres son siá de garrics (fr : chênes), siá de faus (fr : hêtres). Comptèt 76 faus. **Quantes garrics i a dins lo parc ?**



## PROBLÈMAS CM2 (1)

6

Ma menina a ganhat 320 euros al casino alara que mon papet a ganhat 155 euros.  
**Quant ma menina a ganhat de mai que mon papet ?**



## PROBLÈMAS CM2 (1)

7

Doni 1 carrat de chocolat a cada enfant. Ma tableta a 8 rengadas de 4 carrats caduna.

**A quantes d'enfants pòdi donar 1 carrat de chocolat ?**



## PROBLÈMAS CM2 (1)

8

1 lustre es equipat de 8 ampolas.

**Quantas ampolas caldriá per equipar 17 lustres ?**



## PROBLÈMAS CM2 (1)

9

La veitura fa de torns de pista pendent 30 minutas. Li cal 1 minuta e 30 segondas per far 1 torn.

**Quantes torns a faches ?**



## PROBLÈMAS CM2 (1)

10

Dins un maridatge, i a 126 convidats que son assetats a l'entorn de 21 taulas. **Quantes convidats i an per taula ?**



## PROBLÈMAS CM2 (1)

11

L'escòla compta 218 pichons quasèrns dins sos armaris. Per aprestar la dintrada, la directriç de l'escòla comanda encara 525 quasèrns. **Quantes quasèrns aurà a la dintrada ?**



## PROBLÈMAS CM2 (1)

12

Dins son jardin, mon papet aviá comptat 36 tomatas pichonas abans de partir en vacanças. Quand tornèt de vacanças, comptèt 93 tomatas.

**Quantas tomatas butèron pendent son abséncia ?**



## PROBLÈMAS CM2 (1)

13

Dins lo camp, l'agricultor menèt 36 novèls motons. Ara, son tropèl compta 125 motons al total. **Quantes motons aviá al començament ?**



## PROBLÈMAS CM2 (1)

14

La mèstra a comptat 4 brústias de 12 gredons negres, 63 gredons grises e 49 gredons de color dins la classa.

**Quantes gredons compta al total ?**





## PROBLÈMAS CM2 (1)

15

Ma menina a plantat 4 rengadas de 12 flors dins son jardin. I a de tulipas o de ròsas. Se soven qu'i avián 24 tulipas.

**Quantas ròsas i avián ?**



## PROBLÈMAS CM2 (1)

16

Mon escòla compta 98 escolans alara que la de mon cosin a 131 escolans.

**Quantes escolans nòstra escòla a de mens ?**



## PROBLÈMAS CM2 (1)

17

Un borièr a plantat 21 rengadas de 12 ensaladas.

**A plantat mai de 250 ensaladas ?**



## PROBLÈMAS CM2 (1)

18

Dins una caissa de supermercat, i a 24 bilhets de 100 € e 8 bilhets de 50 €. **Quina soma i a en euros dins la caissa ?**



## PROBLÈMAS CM2 (1)

19

Sul jòc de l'auca, avanci de 5 casas en 5 casas.

**Quantes torns me caldrà per arribar a la casa 60 en partissant de la primera casa ?**



## PROBLÈMAS CM2 (1)

20

Un paquet de 6 grandas botelhas de chuc de frucha còsta 12,60 €. **Quant còsta una sola botelha ?**



## PROBLÈMAS CM2 (1)

21

Lo jardin es organizat en 3 rengadas de 5 emplaçaments per las plantas aromaticas.

**Quantas menas de plantas anam poder plantar ?**



## PROBLÈMAS CM2 (1)

22

Louis a crompat 2,5 kg de bonbons a 5 € lo quilograma.

**Quant a pagat ?**



## PROBLÈMAS CM2 (1)

23

Per confeccionar una toalha, ai besonh de  $3 \text{ m}^2$  d'estòfa. Ai un estòc de  $48 \text{ m}^2$  d'estòfa.

**Quantas toalhas pòdi fabricar en tot ?**

+



## PROBLÈMAS CM2 (1)

24

Per aprestar la fèsta d'anniversari, mamà a menat 3 paquets de 6 parts de cake, 6 parts de tarta al citron e 9 parts de tarta al chocolat.

**Quantes parts de cake i a al total ?**



## **PROBLÈMAS CM2 (1)**

**25**

Le borièr vòl aver 1600 polalhas dins son elevatge. A ja 250 polas.  
**Quantes rits deu crompar per completar son elevatge ?**



## **PROBLÈMAS CM2 (1)**

**26**

La corsa es acabada. Alain a corregut en 49 segondas mentre qu'Alexandre a corregut en 1 min10.

**Quant de temps de mens a mes Alain ?**



## PROBLÈMAS CM2 (1)

27

Mon fuèlh es quadrihat amb 22 carrèus en largor e 31 carrèus en longor.

**Quantes carrèus i a ?**



## PROBLÈMAS CM2 (1)

28

Lo prètz d'una cambra d'ostalariá es de 45 € per persona e per nuèch. Un grop de 17 personas passa una nuèch a l'ostalariá.

**Quant lo grop deu pagar per son sejojn ?**



## PROBLÈMAS CM2 (1)

29

Amb 450 €, quantes diccionaris a 22,5 € pòdi crompar per la **classe** ?



## PROBLÈMAS CM2 (1)

30

L'organizador d'una corsa a pè a rebut 11 414 €. I a 1756 correires que participan a la corsa.



**Quantes correires an pagat per s'inscriure ?**