



PROBLÈMAS CE2 (1)

1

2

3

4

5

6

7

8

9

10

11

12

13

14

15

16

17

18

19

20

21

22

23


24

25

Cossí resòlvre un problèma ?

1/ Primièr, legissi la question (**en gras**).


Legissi puèi lo tèxte del problèma. Lo tèxte, es coma una istòria.




2/ Me conti l'istòria e ensagi de comprene çò que se passa. Me pòdi ajudar del material de la **brústia de problèmas**.



3/ Quand ai plan comprés çò que se passa, pòdi far un dessenh, escriure... per trobar la responsa a la question.



4/ Pòdi ara escriure l'operacion que correspond a mon dessenh puèi respondre a la question en fasant una frasa.





PROBLÈMAS CE2 (1)

1

Los enfants de l'escòla an recaptat las balas de l'escòla. N'i a 47. La mèstra ne crompa 18 novèlas.

Quantas balas i a al total ?

+



PROBLÈMAS CE2 (1)

2

Lucie a jogat a las boletas amb Marc. A perdut 25 boletas. Ara, li demòran 19 boletas.

Quantas boletas aviá al començament ?



PROBLÈMAS CE2 (1)

3

Ai mesclat mos 12 imatges preferits amb los 15 imatges que ma sòrre m'a balhats.

Quantes imatges ai en tot ?

+



PROBLÈMAS CE2 (1)

4

I a 6 escolans. La mèstra distribuís 3 getons a cada escolan.

Quantes getons distribuís en tot ?



PROBLÈMAS CE2 (1)

5

La mètrea a 24 getons. Los distribuís a un grop d'escolans. Cada escolan recep 3 getons.

Quantes escolans i a ?

+



PROBLÈMAS CE2 (1)

6

Lucie es venguda amb de bonbons per son anniversari. I avián 43 bonbons. Los enfants an manjat 25 bonbons.

Quantes bonbons demòran ?



PROBLÈMAS CE2 (1)

7

En tornant de vacances, ma menina descobrís qu'i an 13 tomatas cerièras novèlas dins lo jardin. Li ne fan 61 al total.
Quantas tomatas cerièras i avián la setmana passada ?

+



PROBLÈMAS CE2 (1)

8

Enzo e Antoine son fraires. Enzo a 19 boletas e Antoine n'a 24. Botan lors boletas amassa per tot donar a Jérémy, lor pichon fraire.

Quantes boletas recep Jérémy ?



PROBLÈMAS CE2 (1)

9

Mon papet plantèt 4 rengadas de 5 tulipas caduna.

Quantas tulipas foguèron plantadas ?

+



PROBLÈMAS CE2 (1)

10

28 aucèls son repartits dins de gàbias en grops de 4.

Quantas gàbias cal ?



PROBLÈMAS CE2 (1)

11

Dins son jardin, mon papet a ja 18 arbres fruchièrs. Planta 7 arbres fruchièrs novèls.

Quantes arbres a al total ?

+



PROBLÈMAS CE2 (1)

12

Los jogaires de la còla de França de handball a marcat 12 buts pendent la 2^a mièg-temps. Acaban la partida amb 29 punts.

Quantes punts i aviá a la 1^a mièg-temps ?



PROBLÈMAS CE2 (1)

13

Per far son chuc multifruchas, mamà mesclèt 4 iranges, 7 clementinas e 3 pomelmoses.

Quantas fruchas foguèron utilizadas ?

+



PROBLÈMAS CE2 (1)

14

Papà voida tres sacons de lepetariás dins la gamèla del can. Cada sacon conten 11 lepetariás. **Quantas n'i a dins la gamèla ?**



PROBLÈMAS CE2 (1)

15

La mèstra a 36 bonbons. Fa de paquets de 4 bonbons.

Quantes paquets va poder far ?

+



PROBLÈMAS CE2 (1)

16

L'escòla compta 154 enfants mas una classa de 27 escolans es partida en sortida.

Quantes enfants demoraràn a l'escòla ?



PROBLÈMAS CE2 (1)

17

Per la correguda de matemàtiques, los escolans an respondut a dos exercicis. L'exercici 2 a raportat 120 punts. Al total, los escolans an ganhat 185 punts.

Quantes punts valia l'exercici 1 ?

+



PROBLÈMAS CE2 (1)

18

Los escolans de la classa recaptan los gredons de la classa. An trobat 18 gredons dins un bocal e 34 gredons dins un tirador.

Quantes gredons i a al total ?



PROBLÈMAS CE2 (1)

19

Marie pega de pega-solets dins son album. Sus cada pagina, pega 6 pega-solets. A emplenadas 4 paginas. **Quantes pega-solets a pegats ?**

+



PROBLÈMAS CE2 (1)

20

Pierre a 120 €. Vòl crompar de paquets de còcas a 6 €. **Quantes paquets pòt crompar ?**



PROBLÈMAS CE2 (1)

21

Ma menina prepara de compòsta de pomas per la fèsta. A crompat 14 pomas mas pensa qu'es pas pro. Ne va culhir 7 de mai dins lo verdièr.

Quantas pomas aurà al total ?

+



PROBLÈMAS CE2 (1)

22

Pendent la recreacion, la directriç a retalhat de parts de còcas per la fèsta de l'escòla. Pendent lo vespralh, los enfants a manjat 38 parts. Ne demòran 113.

Quantas parts i avián al començament ?



PROBLÈMAS CE2 (1)

23

La directriç de l'escòla compta los escolans de l'escòla. I a tres classas : una classa de CP/CE1 amb 21 escolans, una classa de CE2 amb 28 escolans e enfin una classa de CM1/CM2 amb 24 escolans.

Quantes escolans compta l'escòla ? Quantes adultes ?

+



PROBLÈMAS CE2 (1)

24

Papa renga sos bilhets dins son pòrtamoneda. A 7 bilhets de 5 euros e 1 bilhet de 10 euros.

Quant d'argent a al total ?



PROBLÈMAS CE2 (1)

25

La mèstra fabrica de quasernets. A 28 fuèlhs. Utiliza 4 fuèlhs per cada quasernet.

Quantes quasernets va poder fabricar ?